

**CONCURSUL ȘCOLAR NAȚIONAL DE GEOGRAFIE „TERRA”**  
**ETAPA JUDEȚEANĂ/A SECTOARELOR MUNICIPIULUI BUCUREȘTI**

Ediția a XII-a, 5 aprilie 2025

**CLASA a VII-a**

*Eu sunt Terra și ți-l prezint pe prietenul meu, Rokid. Ne bucurăm că ai venit la acest concurs. Tu ești un mare geograf și, astăzi, ai ocazia să demonstrezi cât de bine mă cunoști. Ai la dispoziție 90 de minute să rezolvi testul pe care ți l-am pregătit. Răspunde corect la toate cerințele și vei câștiga 90 de puncte. Împreună cu cele 10 puncte pe care ți le oferim în dar, drept mulțumire că ai venit aici, vei avea în total 100 de puncte.*

*Succes!*



**Subiectul I**

**(20 puncte)**

**Scrieți**, pe foaia de concurs, litera corespunzătoare variantei corecte de răspuns, pentru fiecare dintre afirmațiile de mai jos:

1. Canalul Suez străbate teritoriul statului:  
a. Egipt                      b. Etiopia                      c. Iordania                      d. Israel
2. Ca poziție geografică, aparține Orientului Mijlociu statul:  
a. Iran                      b. Kazahstan                      c. Mongolia                      d. Turcia
3. Concentrările industriale Chennai (Madras) și Bengalul de Vest s-au dezvoltat pe teritoriul statului:  
a. China                      b. Coreea de Sud                      c. India                      d. Indonezia
4. Aparține regiunii exoreice a bazinului Oceanului Arctic fluviul:  
a. Amur                      b. Lena                      c. Indus                      d. Mekong
5. Riftul est-african este rezultatul mișcării divergente dintre Placa Africană și Placa:  
a. Arabă                      b. Euroasiatică                      c. Indiană                      d. Somaleză
6. În regiunea Serengeti din Tanzania, se află cel mai tipic peisaj de:  
a. mangrove                      b. savană                      c. stepă                      d. tundră
7. Sunt popoare nomade în spațiul saharian:  
a. beduinii și pigmeii                      b. pigmeii și boșimanii  
c. tuaregii și boșimanii                      d. tuaregii și beduinii
8. După forma de guvernământ este o monarhie absolută:  
a. Indonezia                      b. Malaysia                      c. Oman                      d. Vietnam
9. Ghețari estinși, cu limbi glaciare (adevărate „fluvii de gheață”) sunt dezvoltați în Munții:  
a. Altai                      b. Gații de Est                      c. Himalaya                      d. Verhoiansk
10. Stejarul de plută, măslinul și palmierul pitic sunt specii de plante specifice vegetației:  
a. ecuatoriale                      b. deșertice                      c. de savană                      d. subtropicale

**20 puncte**

**Subiectul al II-lea**
**(20 puncte)**

În textul alăturat (DOC.) sunt marcate cu numere de la 1 la 5 unități/forme de relief traversate de Marco Polo, de-a lungul traseului parcurs în Asia, la vârsta de 17 ani. Aspecte ale acestora sunt prezentate în imaginile asociate (marcate cu aceleași numere: 1 – 5), iar pe harta de mai jos sunt marcate cu litere de la a la e puncte de observare din unitățile/formele de relief traversate de Marco Polo de-a lungul traseului reprezentat cu linie roșie.

**A. Realizați** asocierea corectă între unitățile/formele de relief menționate în text și prezentate în imagini, marcate cu numere de la 1 la 5 și literele de la a la e care marchează, pe hartă, puncte de observare din cadrul acestora, după *modelul 6 – f*.

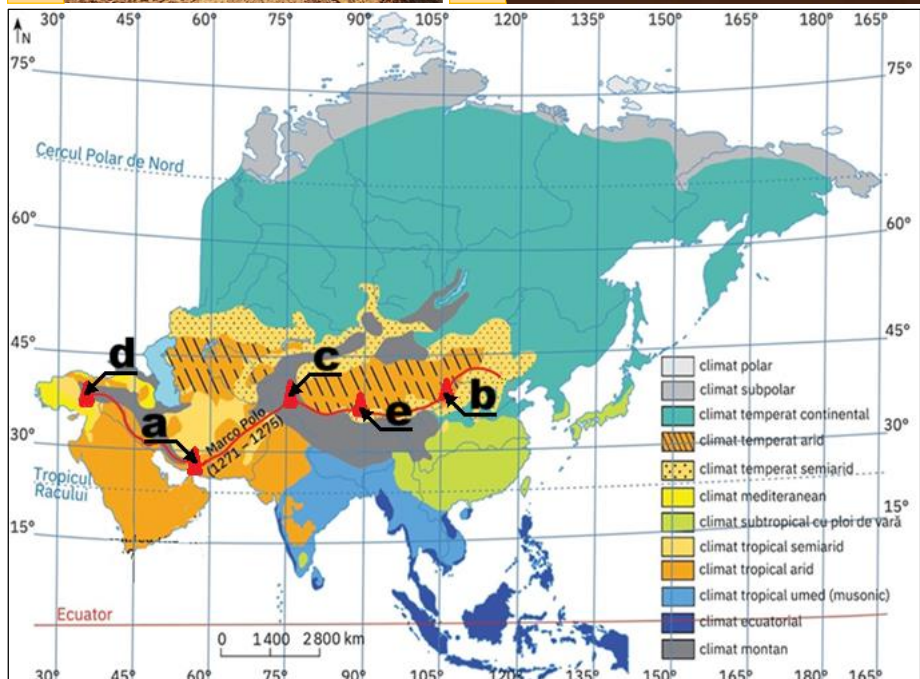
**10 puncte**

**B. Precizați:**

1. unitățile de relief, dintre cele traversate de Marco Polo, care au climat temperat arid/semi-arid;
2. denumirea peninsulei din care a plecat Marco Polo pe traseul descris în text (DOC.);
3. tipul de climă caracteristic Podișului Pamir;
4. denumirea unității de relief traversată de Marco Polo, în imediata apropiere a meridianului de 90° longitudine estică;

**10 puncte**

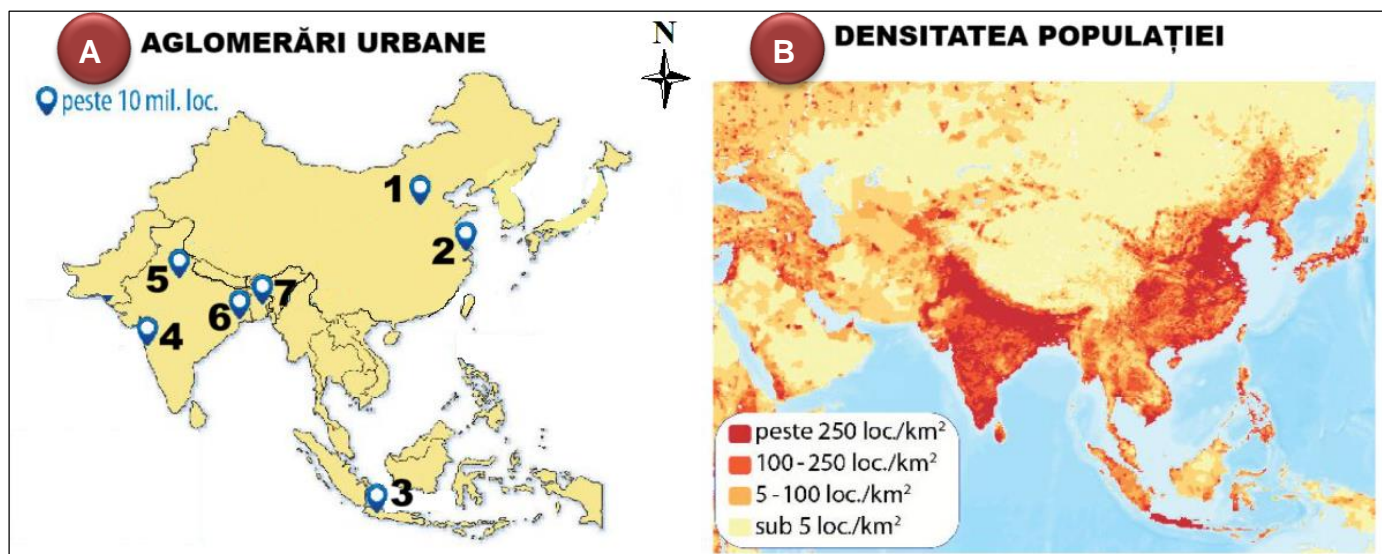
**DOC.** La numai 17 ani, Marco Polo pornea în călătorie alături de tatăl și de unchiul său spre îndepărtatul Orient. Cei trei au traversat Podișul Anatoliei (1) și au coborât pe fluviul Tigru, până pe țărmul Golfului Persic. De aici au traversat Munții Zagros, ajungând pe malul strâmtoarei Ormuz (2). Și-au continuat drumul străbătând Podișul Pamir (3) și Deșertul Taklamakan (4), pe care l-au ocolit prin sud. [...] Au traversat apoi [...] Deșertul Gobi (5) și au ajuns în capitala Imperiului Chinez (Hanbalâk, astăzi Beijing) din Marea Câmpie Chineză.



Sursa: <https://manuale.edu.ro/manuale/Clasa%20a%20VII-a/Geografie/QXJ0IEtsXR0/#book/u01-20-21>

**Subiectul al III-lea**
**(18 puncte)**

Mai jos sunt două reprezentări cartografice ale Asiei de Sud și Asiei de Sud-Est (**A** - Aglomerări urbane și **B** - Densitatea populației). Pe reprezentarea cartografică **A** sunt marcate cu numere de la 1 la 7 orașe asiatice în jurul cărora s-au format aglomerări urbane.



Sursa: <https://manuale.edu.ro/manuale/Clasa%20a%20VII-a/Geografie/Q0QgUHJlc3M/book.html?book#25>

**A. Menționați:**

- numele orașelor marcate, pe reprezentarea **A**, cu numerele **3, 4 și 5**;
- numărul care marchează, pe reprezentarea **A**, aglomerarea urbană de pe teritoriul statului Bangladesh;
- numărul care marchează aglomerarea urbană formată în jurul orașului – capitală din China;
- numărul care marchează aglomerarea urbană formată în jurul unui oraș din nord-estul Indiei;
- numărul care marchează aglomerarea urbană formată în jurul orașului Shanghai cunoscut și sub numele de „Parisul Estului”/”Regina Orientului”.

**14 puncte**

- B. Analizați** cu atenție reprezentările cartografice marcate cu literele **A și B. Precizați** doi factori geografici care au determinat înregistrarea valorilor densității populației de peste 100 loc./km<sup>2</sup> în sudul și sud-estul Asiei.

**4 puncte**
**Subiectul al IV-lea**
**(10 puncte)**

Imaginile de mai jos prezintă aspecte geografice specifice unui stat african.



Fluviul Orange



Elefanți în Parcul Național Kruger



Pinguin pe țărmul Africii

Sursa: <https://manuale.edu.ro/manuale/Clasa%20a%20VII-a/Geografie/RWRpdfHVYSBTaWdYQ/#/page/60>

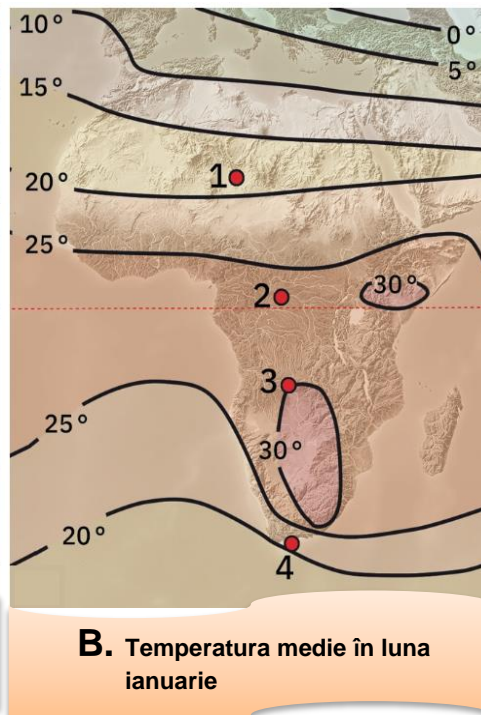
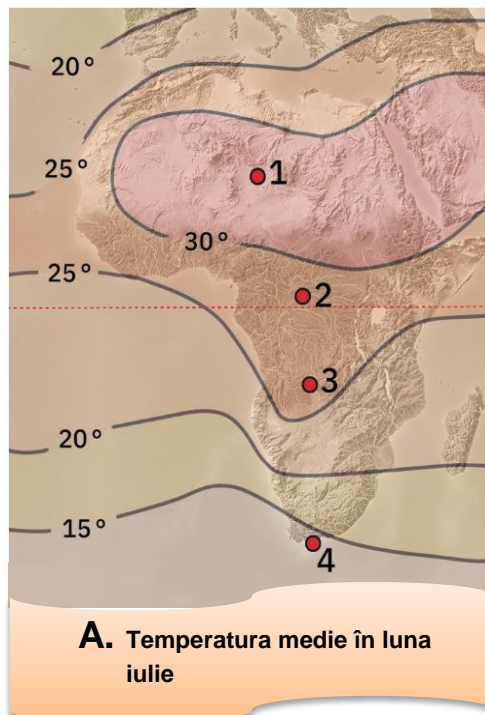
Pentru statul african ale cărui aspecte geografice sunt prezentate în imagini, **menționați:**

- denumirea statului, precum și numele orașului – capitală administrativă/executivă;
- numele munților formați prin încrețire;
- numele fluviului, din bazinul Oceanului Indian, care se mai numește și „Fluviul elefanților”;
- un tip de climă;
- un tip de vegetație.

**10 puncte**

**Subiectul al V-lea**
**(22 puncte)**

Pe hărțile de mai jos, pe care sunt reprezentate temperaturile medii ale lunilor iulie și ianuarie (**A** și **B**), sunt marcate cu numere de la 1 la 4 localități de pe suprafața continentului african, iar imaginile asociate, marcate cu litere de la **a** la **c** prezintă aspecte geografice din diferite regiuni ale Africii.



**a. Peisaj de savană**



**b. Locuință de tuaregi**



**c. „Locatar” al pădurii veșnic verde**

**A. Menționați:**

- numărul care marchează, pe hartă, localitatea în care temperatura medie în luna iulie este mai mare de 30°C, iar în luna ianuarie este de 15°C – 20°C;
- numărul care marchează, pe hartă, localitatea în care se înregistrează cea mai mare valoare a temperaturii medii în luna ianuarie, precum și emisfera în care este situată;
- diferența, cu aproximație, între temperatura medie a lunii ianuarie și temperatura medie în luna iulie, înregistrată în localitatea marcată, pe hartă, cu numărul 4;
- numărul care marchează, pe hartă, localitatea cu cea mai mică diferență între temperatura medie a lunii iulie și temperatura medie a lunii ianuarie, precum și o cauză a acestui fapt;
- numele paralelei care traversează regiunea africană cu cele mai mari temperaturi medii în luna iulie, precum și vânturile caracteristice în regiunea respectivă.

**16 puncte**

- B. Scrieți**, pe foaia de concurs asocierile corecte între imaginile marcate cu litere de la **a** la **c** și numerele localităților situate în regiuni pentru care sunt specifice aspectele geografice prezentate în fiecare dintre imagini, după modelul *d* - 5.

**6 puncte**

Felicitări, ai terminat testul.  
Sunt convins că te-ai străduit să rezolvi toate cerințele și ne vom reîntâlni la etapa națională.  
Te aștept cu drag!

